

海洋分野 実技試験

ステップ 1

異なる 3 地点(A,B,C) から採集した 3 種類の水がある。それぞれの地点の水温 T (°C) と pH (ペーハー) を測定せよ。(10 pnt)

Date :

Time :

A	:	T	:
		pH	:

B	:	T	:
		pH	:

C	:	T	:
		pH	:

ステップ 2

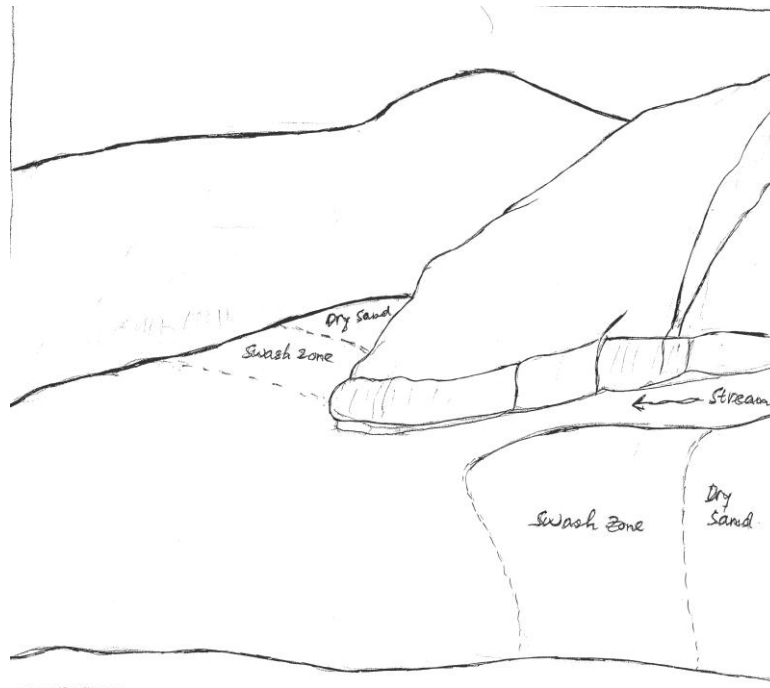
ストップウォッチを用いて、5分間に打ち寄せる波の数を数え、平均周期を計算せよ。(20 pnt)

波の数	平均周期 (秒)

ステップ 3

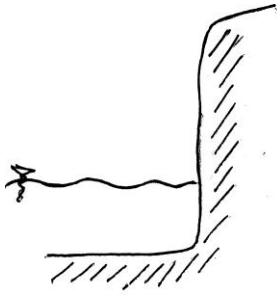
3A

打ち寄せる波を観察し、海岸付近の等深線を下図に描きなさい。(20 pt)




3B

対岸にある崖を観察し、以下の崖の時間変化の模式図を完成させよ。(10 pt)



Stage
1

?



Stage
3